

Şekil Sayı Eşleştirme

→
= 7

☆
= 3

⬠
= 6

△
= 5

□
= 8

✕
= 9

▽
= 1

◇
= 4

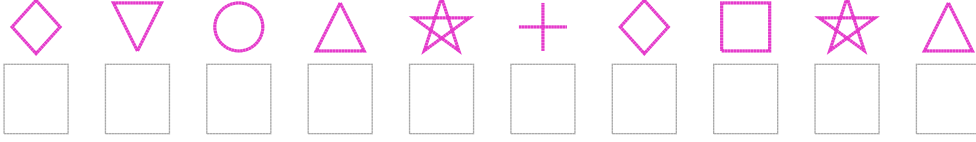
○
= 2

+

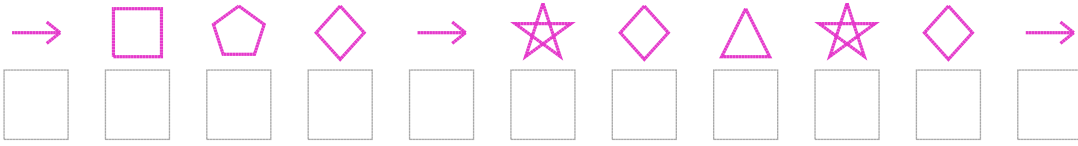
= 0

Aşağıdaki uzun şifreleri hatasız çözerek altlarına yazın:


1. Şifre



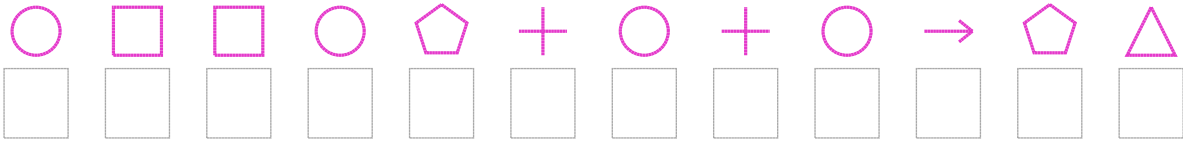
2. Şifre



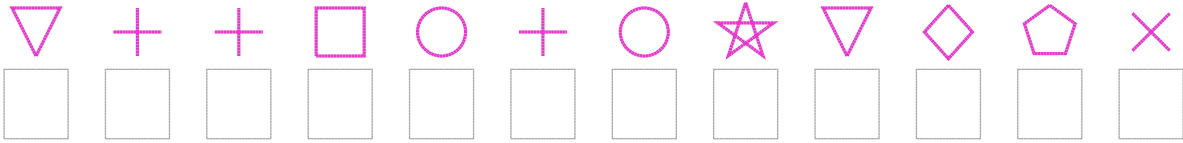
3. Şifre



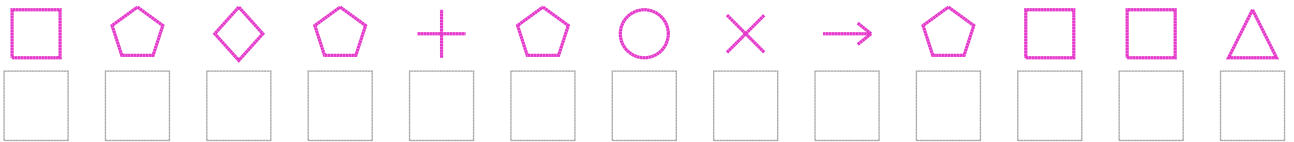
4. Şifre



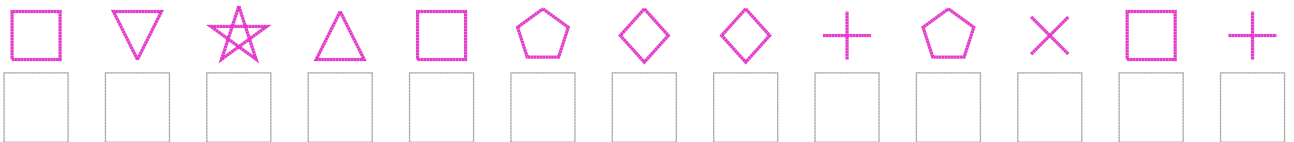
5. Şifre



6. Şifre



7. Şifre



□ BONUS: 3. ve 7. şifrenin üçüncü rakamının toplamı kaçtır?

Cevap Anahtarı

1. Şifre: 4125304835
2. Şifre: 78647345347
3. Şifre: 8493633412511
4. Şifre: 288260202765
5. Şifre: 100820231469
6. Şifre: 8646062976885
7. Şifre: 8135864406980

□ Bonus Soru Cevabı: 12